

Всероссийская олимпиада школьников 2023-2024 учебный год

Школьный этап. География, 10-11 класс

Время выполнения 90 мин. Максимальное кол-во баллов – 79

Теоретический тур

485

Г-10-11

№ задания	Правильный ответ	Кол-во баллов
1	Б	1
2		0
3	Г	1
4	532146	3
5	А	1
6	А-4, Б-5, В-6, Г-3, Д-2	5
7	14	2
8	А	1
9	Лена	1
10	А-6, Б-1, В-2, Г-3	2
11	А-медное рудо Б-алюминий, В-марганец, Г-железо	4
12	протестантизм	1
13	АБД	3
14	В	1
15	8,57	1
16	В	1
17	Г	1
18		0
19	Б	1
20	Б	1
Максимальное количество баллов		37

Практический тур

Задание №1.

Определите географический район по его характеристике

№	Вопрос	Ответы	Кол-во баллов
1.	Назовите географический район	Тюменский	2
2.	Какая река протекает по территории географического района	Волга	2
3.	Какие республики входят в состав географического района	Саратовская обл. Волгоградская обл. Астраханская обл.	0
4.	Назовите основные/ведущие отрасли специализации		0

	географического района		
5.	Назовите города-миллионеры географического района	Самара, Казань, Волгоград	2
Максимальное количество баллов			

Задание №2.


Рассчитайте ресурсообеспеченность страны.





№	Страна	Кол-во баллов	Количество лет	Кол-во баллов
1.	Россия			
2.	Австралия			
3.	Бразилия			
4.				
5.				

Максимальное количество баллов - 10

Задание №3.

Определите туристический объект, его название и страну, в которой он находится. Запишите название туристического объекта и страну его нахождения.

№	Туристический объект	Название туристического объекта	Кол-во баллов	Страна нахождения туристического объекта	Кол-во баллов
1.		Коллизей		Италия	

	<p>теракто- товое армии</p>	<p>Китай</p>	
	<p>Москва- сити</p>	<p>Россия</p>	
	<p>Лувр</p>	<p>Франция</p>	
	<p>Тадж- Махал</p>	<p>Индия</p>	

Максимальное количество баллов – 10 баллов.

105

Задание №4.

1.

Цифра на карте	Буква название графика	Количество баллов
1		
2		
3		
4		
Максимальный балл		

2. За каждую правильно заполненную ячейку по 1 баллу. Итого максимальный балл за задание – **12 баллов**

Буква графика	Название населенного пункта	Название страны	Название климатического пояса
А			
Б			
В			
Г			